

# Dimensio PULMASIVUT

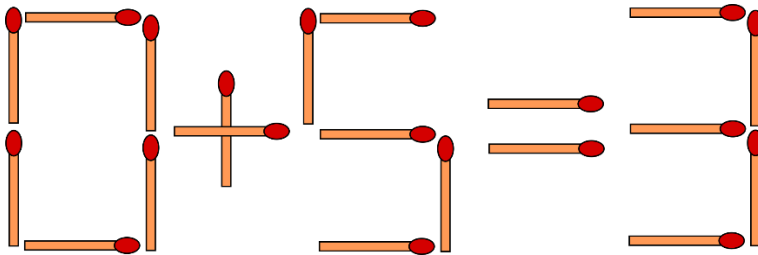
Maaliskuun pulmat – Tikusta asiaa

dimensiolehti.fi

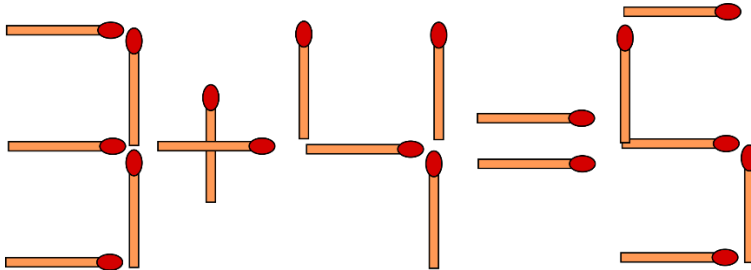
Laatinut Tuomo Riekinen

Tämän kuukauden pulmat ovat tikkutehtäviä, jotka liittyvät numeroihin ja yhtälöihin.

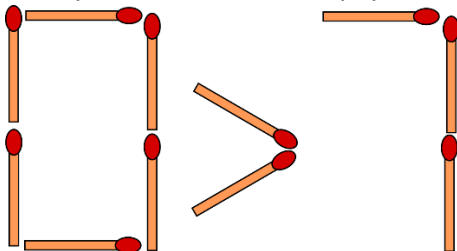
1. Siirrä yhtä tikkua niin, että yhtälö on tosi. Ongelmalle löytyy kaksi ratkaisua. Etsi ne molemmat.



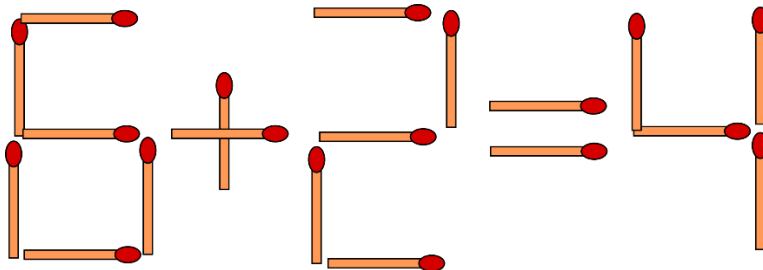
2. Siirrä yhtä tikkua niin, että yhtälö on tosi.



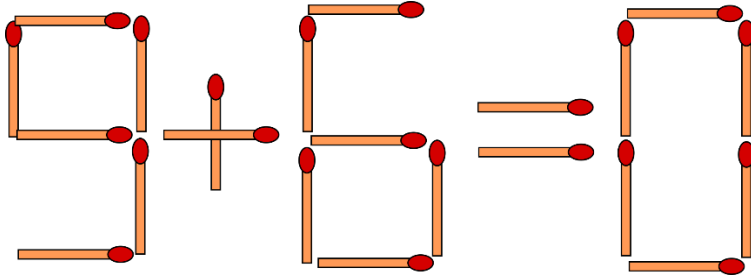
3. Siirrä yhtä tikkua niin, että epäyhtälö on tosi.



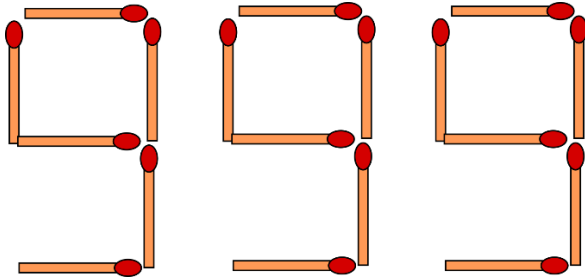
4. Siirrä kolmea tikkua niin, että yhtälö on tosi.



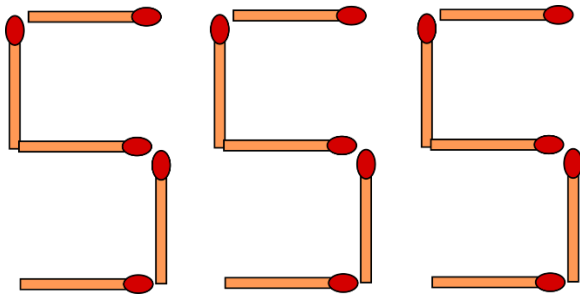
5. Siirrä kahta tikkua niin, että yhtälö on tosi.



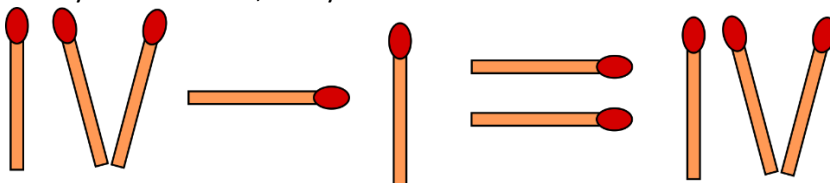
6. Siirrä kolme tikkua niin, että luku on mahdollisimman pieni. Luku ei saa alkaa nolllalla.



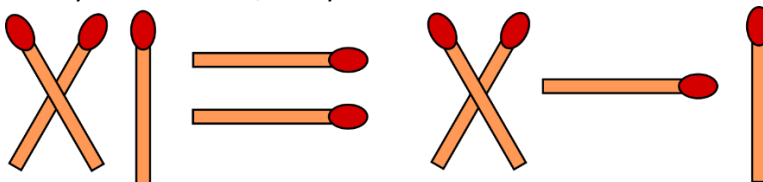
7. Siirrä kolme tikkua niin, että luku on mahdollisimman suuri.



8. Siirrä yhtä tikkua niin, että yhtälö on tosi roomalaisisilla numeroilla.



9. Siirrä yhtä tikkua niin, että yhtälö on tosi roomalaisisilla numeroilla.



10. Siirrä yhtä tikkua niin, että yhtälö on tosi roomalaisisilla numeroilla.

