



Pulmapalsta palaa Dimensioon! Julkaisemme joka kuukausi pulmatehtäviä Dimensiossa. Pulmatehtävien ratkaisut löytyvät MAOL ry:n sivuilta, jossa ne ovat saatavilla kirjautuneille jäsenille:

<https://maol.fi/materiaalit/>


1. Jokaisella pysty- ja vaakarivillä on vain yksi samanlainen kuvio kerran. Päättele, mitkä kuviot ovat kysymysmerkkien alla.




2. Jokaisella pysty- ja vaakarivillä on vain yksi samanlainen kuvio kerran. Päättele, mitkä kuviot ovat kysymysmerkkien alla.




3. Jokaisella pysty- ja vaakarivillä on vain yksi samanlainen kuvio kerran. Päättele, mitkä kuviot ovat kysymysmerkkien alla.




4. Päättele mitä sääntöä ruudukko noudattaa. Mikä kuvio on kysymysmerkin alla?




5. Päättele mitä sääntöä ruudukko noudattaa. Mikä kuvio on kysymysmerkin alla?



6. Päätele mitä sääntöä ruudukko noudattaa. Mikä kuvio on kysymysmerkin alla?



7. Päätele mitä sääntöä ruudukko noudattaa. Mikä kuvio on kysymysmerkin alla?



8. Päätele puuttuvat luvut, kun vaaka- ja pystyrienvien summa on aina sama.

12	8	?
10	13	?
?	?	18